

أسئلة نافس نموذج (٣)




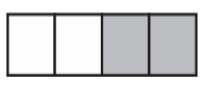
اسم الطالبية : الصف :

اختاري الإجابة الصحيحة لكل مما يلي:

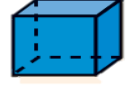



١ - في الكيلو جرام الواحد يوجد ١٠٠٠ جرام ، فما عدد الجرامات في ٧ كيلو جرامات ؟

| | | | | | | | |
|---|---------|---|----------|---|-----------|---|-----------|
| أ | ٧٠ جرام | ب | ٧٠٠ جرام | ج | ١٠٠٠ جرام | د | ٧٠٠٠ جرام |
|---|---------|---|----------|---|-----------|---|-----------|

٢- أي من الأشكال الآتية تم تظليل نصفه؟

| | | | | | | | |
|---|---|---|--|---|---|---|---|
| أ |  | ب |  | ج |  | د |  |
|---|---|---|--|---|---|---|---|

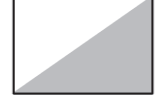


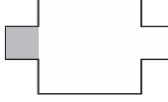
٣ - أي مما يلي يمثل شكل الأسطوانة؟

| | | | | | | | |
|---|---|---|---|---|---|---|---|
| أ |  | ب |  | ج |  | د |  |
|---|---|---|---|---|---|---|---|


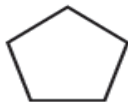


٤- مجسم له ٧ اضلاع و ٧ زوايا يسمى


| | | | | | | | |
|---|------|---|-------|---|-------|---|-------|
| أ | مثلث | ب | رباعي | ج | خماسي | د | سباعي |
|---|------|---|-------|---|-------|---|-------|

٥- ما الكسر الذي يمثل ثلث ؟

| | | | | | | | |
|---|---|---|--|---|---|---|---|
| أ |  | ب |  | ج |  | د |  |
|---|---|---|--|---|---|---|---|

٦- أي شكل من الأشكال الآتية يمثل خماسي ؟

| | | | | | | | |
|---|---|---|--|---|---|---|---|
| أ |  | ب |  | ج |  | د |  |
|---|---|---|--|---|---|---|---|

٧- محيط الشكل المجاور هو سم

 ٦ سم
 ٢ سم

| | | | | | | | |
|---|----|---|----|---|----|---|----|
| أ | ١٠ | ب | ١٢ | ج | ١٦ | د | ٤٠ |
|---|----|---|----|---|----|---|----|

٨- الوحدة الأنسب لقياس طول حشرة

| | | | | | | | |
|---|---------|---|-----------|---|-------------|---|--------|
| أ | الملمتر | ب | السنتيمتر | ج | الكيلو جرام | د | الليتر |
|---|---------|---|-----------|---|-------------|---|--------|

٩- عدد الوحدات المربعة اللازمة لتغطية شكل ما من غير تداخل .

| | | | | | | | |
|---|--------|---|---------|---|-------|---|--------|
| أ | المحيط | ب | المساحة | ج | الحجم | د | الكتلة |
|---|--------|---|---------|---|-------|---|--------|

اجيبي عن الأسئلة التالية:

١٠- ما العلاقة بين عدد الاضلاع و عدد الزوايا في المضلع ؟

١١ - اسمي ثلاثة أشياء، أشاهدها في غرفة صفي بحيث تكون على شكل أسطوانة أو متوازي مستطيلات :

١٢- ارسمي شكل له محور تماثل واحد:

١٣- صمم شعار وفق النمط الآتي: ٤ مثلثات ثم مربعان، فكم سيكون عدد المضلعات كلها إذا كرر النمط ٥ مرات؟

١٤ - أيهما يتحرك أسرع في ساعة العقارب، عقرب الساعات أم عقرب الدقائق؟

١٥ - أوجدني حجم كتاب طولة ٨ وحدات وعرضه ٦ وحدات وارتفاعه وحده واحدة؟

١٦- صنفي كلا من المجسمات الآتية :

أ- شكل له خمسة أوجه ، واربعه منها مثلثة الشكل والوجه الآخر مربع .

ب - شكل له ٦ أوجه مربعة الشكل و ٨ رؤوس و ١٢ حرف .

١٧ - طلب خالد من سعيد أن يختار كرة من صندوق فيه ١٠ كرات ، واحده منها زرقاء ، اصف احتمال اختيار كرة زرقاء ؟

١٨- أعطي مثالا على كسرين متكافئين ؟

١٩- هناك ٣ قطط سوداء ، وقطه واحدة بيضاء ، ما الكسر الذي يمثل القطط البيضاء ؟